






Aufgabe: Fülle die freien Felder aus!


10 % - 12 % - 20 km - 20 km - 23 % - 3 km - 3 km - 47 % - 58 km - 9 %

Verkehrsmittel: Damit bewegen wir uns fort.

Wenn wir uns 100mal fortbewegen: Mit welchem Verkehrsmittel tun wir das?
 Ordne die Prozentsätze den Verkehrsmitteln zu!

Wenn wir uns 100 km fortbewegen: Für wie viele km nutzen wir was?
 Ordne die zurückgelegten Kilometer den Verkehrsmitteln zu!

23 %		3 km
zu Fuß		
10 %		3 km
mit dem Rad		
47 %		58 km
Fahrer im PKW		
12 %		20 km
Mitfahrer im PKW		
9 %		20 km
Öffentliche Verkehrsmittel		

 © 2012 Deutscher Sparkassen Verlag GmbH, Stuttgart